





















نام و نام خانوادگی:	اداره کل آموزش و پرورش استان مرکزی	نام درس: علوم	نوبت:
نام پدر:	مدیریت آموزش و پرورش ساوه	تاریخ:	وقت لازم:
نام آموزشگاه: الوند	امتحانات داخلی پایه: ابتدایی	پایه: اول دبستان	ساعت شروع:

ردیف	سوالات
۱	<p>پسر عزیزم خوب چشیدن در کدام یک از شغل های زیر بیشتر اهمیت دارد ؟</p> 
۲	<p>کدام یک از کارهای زیر جزء بهداشت فردی نیست ؟</p> 
۳	<p>کدام یک از کارهای زیر باعث آلودگی هوا نمی شود ؟</p> 
۴	<p>کدام یک از خوراکی های زیر برای صبحانه مفید است ؟</p> 
۵	<p>کدام یک از موجودات زیر به آب - هوا - غذا نیاز ندارد ؟</p> 

				<p>۶</p> <p>پسر باهوش دور حیوانی که می جهد را خط بکش .</p>
				<p>۷</p> <p>از چوب درختان چه وسیله ای می توانیم درست کنیم ؟</p>
				<p>۸</p> <p>کدام وسیله برای کار کردن به آب نیاز دارد ؟</p>
				<p>۹</p> <p>کدام گیاه برگ خوراکی دارد ؟</p>
				<p>۱۰</p> <p>پسر عزیزم کدام یک از وسایل زیر ، به زیر آب می رود ؟</p>

☆ پسر زرنگ موفق باشی ☆